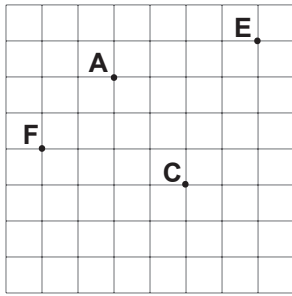


TEMEL GEOMETRİK KAVRAMLAR VE ÇİZİMLER



Yukarıda A, C, E ve F noktaları birim karelerden oluşan zeminde verilmiştir.

(1. ve 2. soruları yukarıdaki şekle göre cevaplayınız.)

1. E noktasının F noktasına göre konumu aşağıdakilerden hangisidir?

- A) 3 birim sağında 6 birim yukarısında
- B) 6 birim solunda 3 birim aşağısında
- C) 6 birim sağında 3 birim yukarısında
- D) 3 birim solunda 6 birim aşağısında

2. C noktasından A noktasına ulaşmak için aşağıdaki yollardan hangisi izlenmelidir?

- A) 3 birim aşağı 2 birim sağa
- B) 2 birim yukarı 3 birim sola
- C) 5 birim aşağı 1 birim sağa
- D) 3 birim yukarı 2 birim sola

3. Aşağıdaki ifadelerden hangisi doğrudur?

- A) İki nokta arasındaki en kısa çizgi bir doğru parçası oluşturur.
- B) Bir noktadan yalnız bir doğru geçer.
- C) Işınlardan iki ucu da sonsuza gider.
- D) İki noktadan sonsuz sayıda farklı doğru geçer.

4. Aşağıdakilerden hangisinin sembolle gösterimi yanlıştır?

- A) $\overleftarrow{F} \text{---} \overrightarrow{E}$ [FE]
- B) $\overline{K} \text{---} \overline{L}$ [KL]
- C) $\overline{D} \text{---} \overline{M}$ [DM]
- D) $\overleftarrow{A} \text{---} \overrightarrow{B}$ \overleftrightarrow{BA}

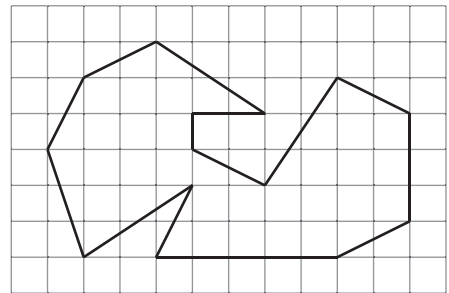
5.




Verilen doğrudaki M ve O noktaları aşağıda sembollerle gösterilen geometrik şekillerden hangisinin üzerinde yer alır?

- A) [KN]
- B) [NK]
- C) \overleftrightarrow{MN}
- D) [NP]

6.

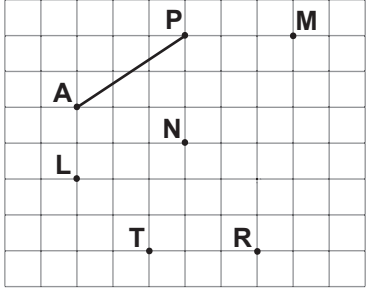


Kareli zemin üzerinde verilen şekildeki 14 doğru parçasından kaç tanesinin uzunluğu  uzunluğuna eşittir?

- A) 5
- B) 6
- C) 7
- D) 8

TEMEL GEOMETRİK KAVRAMLAR

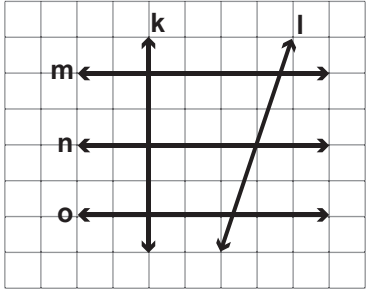
7.



Kareli zemin üzerinde verilen noktalardan hangi ikisi birleştirilirse AP doğru parçasına eşit uzunlukta bir doğru parçası çizilmiş olur?

- A) M ile N B) L ile T
C) R ile N D) T ile R

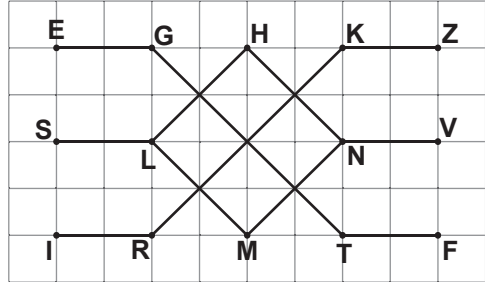
8.



Kareli zeminde verilen şekle göre aşağıdakilerden hangisi doğrudur?

- A) $l \perp o$ B) $o \perp m$
C) $k \perp l$ D) $n \perp k$

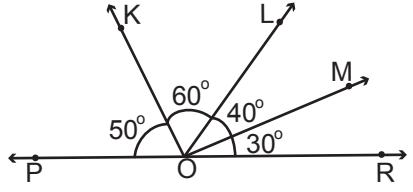
9.



Kareli zeminde verilen şekle göre aşağıdakilerden hangisi yanlıştır?

- A) $[MN] \parallel [KZ]$ B) $[SL] \parallel [TF]$
C) $[RK] \parallel [LH]$ D) $[NH] \parallel [LM]$

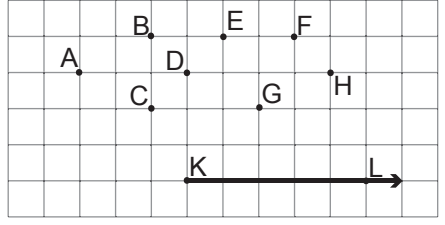
10.



Verilen şekle göre aşağıdaki ifadelerden hangisi doğrudur?

- A) POL açısı dar açıdır.
B) MOL açısı geniş açıdır.
C) ROL açısı dik açıdır.
D) ROM açısı dar açıdır.

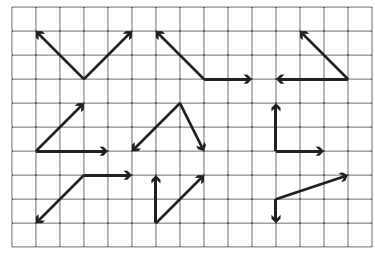
11.



Kareli zemin üzerinde verilen şekle göre K noktası hangi noktalarla tek birleştirilirse her defasında dar açı elde edilir?

- A) B - G - F - H B) E - G - F - H
C) D - F - H - B D) C - D - E - F

12.



Yukarıda kareli zeminde verilen açılardan kaç tanesi dar açıdır?

- A) 1 B) 2
C) 3 D) 4

MEB 2016 - 2017

Adı :
Soyadı :
Sınıf :
No :

1	2	3	4	5	6	7	8	9	10	11	12
A	A	A	A	A	A	A	A	A	A	A	A
B	B	B	B	B	B	B	B	B	B	B	B
C	C	C	C	C	C	C	C	C	C	C	C
D	D	D	D	D	D	D	D	D	D	D	D

Doğru :
Yanlış :
Boş :
Puan :